

ТИТУЛЬНЫЙ ЛИСТ

Всероссийская олимпиада школьников

Школьный этап

Заполняется ПЕЧАТНЫМИ БУКВАМИ чернилами черного или синего цвета по образцам:

А	Б	В	Г	Д	Е	Ж	З	И	К	Л	М	Н	О	П	Р	С	Т	У	Ф	Х	Ц	Ч	Ш	Щ	Ъ	Ы	Ь	Э	Ю	Я	@	8	9	,
A	B	C	D	E	F	G	H	I	J	K	L	M	N	O	P	Q	R	S	T	U	V	W	X	Y	Z	1	2	3	4	5	6	7	0	.

ПРЕДМЕТ

И С Т О Р И Я

КЛАСС

6

ДАТА

02 . 10 . 2024

ШИФР УЧАСТНИКА

6 0 2

ФАМИЛИЯ

ШУЛЬТАЙС

ИМЯ

ХРИСТИЯН

ОТЧЕСТВО

ВЛАДИМИРОВИЧ

Дата рождения

11 . 12 . 2012

Муниципалитет

ЧЕРЛАКСКИЙ

Сокращенное наименование образовательной организации (школы)

МБОУ „Большаеатмасская СОШ “

Сведения о педагогах-наставниках

1. Фамилия

КОВАЛЕВА

Имя

АННА

Отчество

МИХАЙЛОВНА

Сокращенное наименование образовательной организации (школы)

2. Фамилия

Имя

Отчество

Сокращенное наименование образовательной организации (школы)

Личная подпись участника

ШУЛЬТАЙС

Все поля обязательны к заполнению!

ЗАДАНИЯ ДЛЯ ОБУЧАЮЩИХСЯ
Время выполнения заданий - 45 минут
Максимальное количество баллов – 100 баллов

Задание 1. Решите тестовые задания. Ответ запишите в таблицу.

Максимальный балл за задание – 10 баллов. За каждый правильный ответ – 2 балла.

1.1. Какое из перечисленных событий способствовало падению Западной Римской империи и послужило началом эпохи Средних веков в Европе.

- А) падение Восточной Римской империи
- Б) создание империи Карла Великого
- ☒ В) Великое переселение народов
- Г) зарождение христианства

1.2. Какое из Семи чудес света было создано царем Навуходоносором II для своей жены Амитис?

- А) Галикарнасский мавзолей
- ☒ Б) Висячие сады
- В) Фаросский маяк
- Г) Колосс Родосский

1.3. Какой римский император разрешил христианам строить храмы и открыто молиться?

- ☒ А) Константин
- Б) Нерон
- В) Ромул
- Г) Марк Аврелий

1.4. Ко II в. до н.э. в Римской империи обострился земельный вопрос, назовите кто из трибунов вступился за бедняков, и настоял на принятии земельного закона, по которому излишки государственной земли должны были розданы беднякам без права продажи?

- А) Октавий
- Б) Квинт Клавдий
- В) Гай Красс

Шифр участника 602

☒ Тиберий Гракх

1.5. Театральные представления зарождаются в Древней Греции, с празднествами в честь какого бога, связывают появление театра?

- А) Зевс
Б) Аполлон
☒ В) Дионис
Г) Посейдон

Ответ:

1.1	1.2	1.3	1.4	1.5
В	В	А	Г	В
+2	+2	+2	+2	+2

Задание 2. Установите ложность или правильность данных утверждений. («Да» - «Нет»). Максимальный балл за задание – 10 баллов. За каждый правильный ответ – 2 балла.

№	Утверждение	Да/нет
1	Верно ли, что подъем культуры в Западной Европе в VIII-IX веках называется эпоха Возрождения?	нет +2
2	Верно ли, что земля в Западной Европе принадлежала феодалам, а крестьяне были лишь её держателями?	да +2
3	Верно ли, что первые университеты появились в эпоху Средневековья?	да +2
4	Верно ли, что основной целью Крестовых походов было освобождение Пиренейского полуострова от арабов?	нет 20
5	Верно ли, что в Средневековье сложились языки многих народов: английский, немецкий, французский, испанский и др.?	да 20

Задание 3. Восстановите правильную хронологическую последовательность событий. Ответ запишите в виде последовательности номеров событий.

Максимальный балл за задание – 3 балла.

- А) Призвание Рюрика в Новгородскую землю
Б) Образование Арабского халифата
В) Разделение православной и католической церкви

Шифр участника 002

Г) Падение Константинополя

Ответ: Б А В Г

Задание 4. Установи соответствие между историческим деятелем и событием, связанным с ним. Ответ запишите в таблицу.

Максимальный балл за задание – 10 баллов. За каждый правильный ответ – 2 балла.

Исторический деятель	Историческое событие
4.1. Данте Алигьери	А Византийский император, создавший «Свод гражданского права»
4.2. Иоганн Гутенберг	Б Создание Франкской империи
4.3. Юстиниан	В Создание «Божественной комедии»
4.4. Ян Жижка	Г Изобретение книгопечатание
4.5. Карл Великий	Д Организатор и руководитель гуситских войн

Ответ:

4.1	4.2	4.3	4.4	4.5
<u>Б</u>	<u>Г</u>	<u>А</u>	<u>Д</u>	<u>В</u>
+ 2	+ 2	+ 2	+ 2	+ 2

Задание 5. По какому принципу образованы ряды?

Максимальный балл за задание – 10 баллов. За каждый правильный ответ – 2 балла.

- 5.1. герцог – барон – рыцарь степень социальной иерархии в феод. системе (от высш. к низш.) + 2
- 5.2. епископ – аббат – священник подчиненность в христ. иерархии (от высш. к низш.) + 2
- 5.3. барщина – натуральный оброк – денежный оброк - формы феод. зависимости от феодалов к землеу. + 2
- 5.4. Пипин Короткий – Карл Великий – Людовик I династия Каролингских императоров. 20
- 5.5. грамматика - риторика – диалектика - Триадизм + 2

Задание 6. Прочитайте текст и вставьте пропущенные слова. Ответ запишите в таблицу.

Максимальный балл за задание – 18 баллов. За каждый правильный ответ – 2 балла.

В Средние века действовало правило «Нет земли без (1) ». В IX-X веках вся земля в Западной Европе оказалась у светских и духовных (2). Возникла феодальная (3) – хозяйство

Шифр участника 602

феодала, в котором работали (4). Пахотная и прочая земля в вотчине делилась на две части – (5) и (6) наделы. За пользование землей зависимые крестьяне должны были нести (7) (принудительные обязанности). Главными повинностями крестьян были (8) и (9).

Слова:

- | | |
|------------------------|-----------------|
| А. Зависимые крестьяне | Е. Вотчина |
| Б. Господскую | Ж. Барщина |
| В. Сеньор | З. Крестьянские |
| Г. Феодалов | И. Король |
| Д. Повинности | К. Оброк |

Ответ:

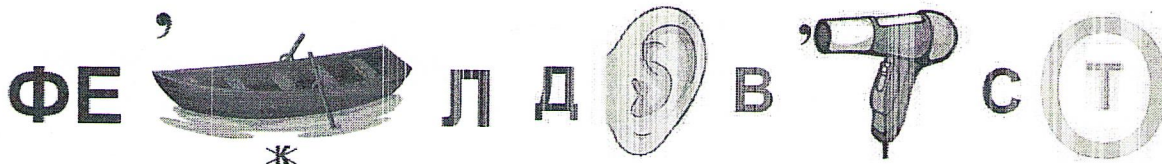
1	2	3	4	5	6	7	8	9
В	Г	Е	А	Б	З	Д	Ж	К
+	+	+	+	+	+	+	+	+

Задание 7. Разгадайте ребусы, и запишите ответы.

Максимальный балл за задание – 10 баллов. За каждый правильный ответ – 5 баллов.

А)

Б)



Ответ:

А) Речная

Б) Духовенство

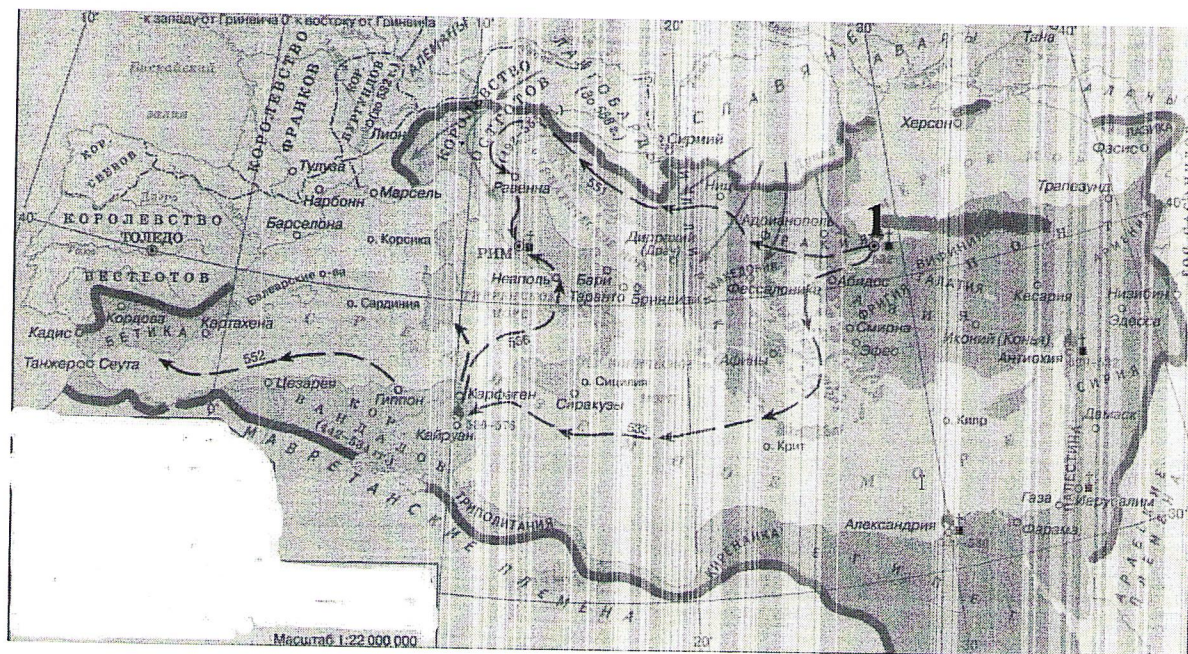
Задание 8. Работа с картой.

Рассмотрите карту и выполните задания.

Максимальный балл за задание – 9 баллов. За каждый правильный ответ – 3 балла.

- 8.1. Назовите государство, территория которого изображено на карте?
- 8.2. Назовите столицу данного государства, на карте обозначенную цифрой 1?
- 8.3. При каком императоре VI века н.э. данное государство достигло наибольшего своего могущества?

Шифр участника 602



Ответ:

8.1 Королевство венециан —

8.2 Мадрид —

8.3 Реконкреста I —

Задание 9. Решите кроссворд.

Максимальный балл за задание – 10 баллов. За каждый правильный ответ – 2 балла.

По горизонтали:

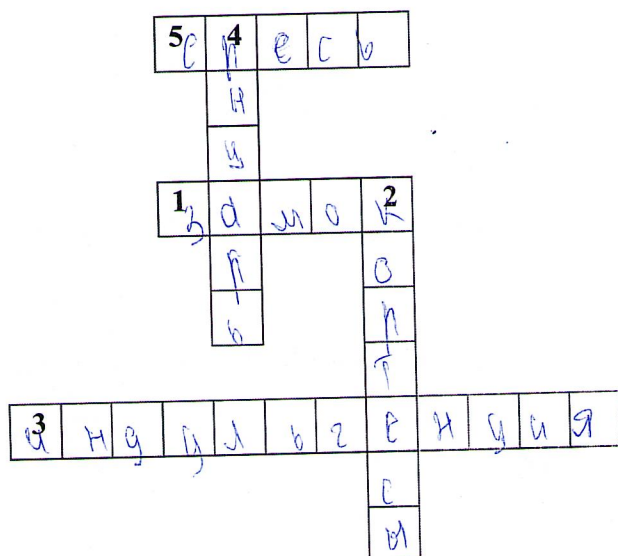
1. Укрепленное жилище феодала, преимущественно из камня, во время набегов неприятеля служил убежищем для населения.
3. Грамота об отпущении грехов, выдаваемая за деньги католической церковью от имени папы римского.
5. Религиозное учение, противоречащее основным положениям господствующей католической церкви, отступление от «истинной веры».

По вертикали:

2. Сословно-представительные региональные собрания в государствах Пиренейского полуострова.
4. Тяжеловооруженный воин в средневековом войске, сражавшийся верхом на коне.

Шифр участника 662

106



Задание 10. Рассмотрите фотографию, и ответьте на вопросы.

Максимальный балл за задание – 10 баллов. За каждый правильный ответ – 5 баллов.

В августе 2023 года на Иртышской набережной г. Омска был установлен памятник, рассмотрите фотографию и ответьте на вопросы:

10.1. Назовите исторического деятеля кому был установлен данный памятник?

10.2. Как данный исторический деятель был связан с городом Омском?

Ответ:

10.1. А.Г.Ромов.

10.2. Один из первых руководителей
и организаторов Омского казачьего
войска, активно участвовал в развитии
города и его инфраструктуры в 18
веке.

